



PREFEITURA DE  
**ITAPEVI**  
SECRETARIA DE EDUCAÇÃO


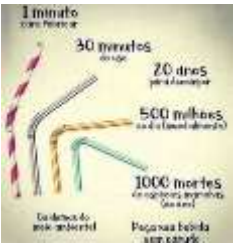




**APRENDER EM CASA**

# SUGESTÕES DE ATIVIDADES

**EJA** EDUCAÇÃO DE  
JOVENS E ADULTOS

TERMO

**2**

Segunda-feira	Terça-feira	Quarta-feira	Quinta-feira	Sexta-feira																						
Língua Portuguesa	Língua Portuguesa	Matemática	Matemática	Ciências																						
<p><b>VÍDEO</b></p> <p>ACCESSE O LINK E ASSISTA AO VÍDEO. EM SEGUIDA REGISTRE NO SEU CADERNO QUAIS SÃO OS 5 R RELACIONADOS À RECICLAGEM.</p> <p><a href="https://www.youtube.com/watch?v=LKJM3DCmraM">https://www.youtube.com/watch?v=LKJM3DCmraM</a></p> <p>FORME UMA FRASE PARA CADA "R".</p>	<p><b>LISTA</b></p> <p>SEPARE OS PRODUTOS EM DUAS LISTAS: UMA DAQUELES QUE PODEM SER RECICLADOS E OUTRA DAQUELES QUE NÃO PODEM.</p> <ul style="list-style-type: none"> <li>- CASCA DE FRUTAS</li> <li>- PAPEL</li> <li>- LÁPIS</li> <li>- RESTO DE COMIDA</li> <li>- GARRAFAS PLÁSTICAS</li> <li>- SERINGAS USADAS</li> <li>- PAPEL HIGIÊNICO USADO</li> <li>- POTES DE VIDRO</li> </ul>	<p><b>GRÁFICO</b></p> <p>OBSERVE O GRÁFICO:</p>  <p>AGORA, RESPONDA:</p> <p>QUAL O PRODUTO QUE MAIS FOI RECICLADO?</p> <p>QUAL FOI A PORCENTAGEM DA RECICLAGEM DO PAPEL E VIDRO JUNTOS?</p> <p>QUANTOS PORCENTO O VIDRO TEVE A MAIS DE RECICLAGEM EM RELAÇÃO AO PAPEL?</p>	<p><b>MEDIDA</b></p>  <p>OBSERVE OS NÚMEROS QUE APARECEM NA IMAGEM ACIMA. RESPONDA:</p> <p>1 MINUTO TEM QUANTOS SEGUNDOS?</p> <p>EM 20 ANOS TEMOS QUANTOS MESES?</p> <p>ESCREVA OS NÚMEROS DA IMAGEM POR EXTENSO.</p>	<p><b>RECICLAGEM</b></p> <p>DESENHE OU RECORTE FIGURAS PARA REPRESENTAR O TIPO DE LIXO QUE VAI SER RECICLADO EM CADA LATA.</p> 																						
Adaptação para estudantes com deficiência	Adaptação para estudantes com deficiência	Adaptação para estudantes com deficiência	Adaptação para estudantes com deficiência	Adaptação para estudantes com deficiência																						
<p><b>VÍDEO</b></p> <p>PARA ESTUDANTE DEFICIENTE AUDITIVO ASSISTA AO VÍDEO: "Os 5 Rs – em Libras" <a href="https://www.youtube.com/watch?v=KQKY5WFPres">https://www.youtube.com/watch?v=KQKY5WFPres</a></p> <p>FORME UMA FRASE PARA CADA "R".</p>	<p><b>LISTA</b></p> <p>ASSISTA AO VÍDEO: "A VIDA EM LIBRAS – RECICLAGEM" <a href="https://www.youtube.com/watch?v=T14KYfGjsgM">https://www.youtube.com/watch?v=T14KYfGjsgM</a></p> <p>CASCA DE FRUTAS PAPEL LÁPIS RESTO DE COMIDA GARRAFAS PLÁSTICAS SERINGAS USADAS PAPEL HIGIÊNICO USADO POTES DE VIDRO</p> <p>COLOCAR AS PALAVRAS NA COLUNA CERTA</p> <table border="1" data-bbox="379 1841 628 2031"> <thead> <tr> <th>RECICLAVEL</th> <th>NÃO RECICLAVEL</th> </tr> </thead> <tbody> <tr><td> </td><td> </td></tr> <tr><td> </td><td> </td></tr> <tr><td> </td><td> </td></tr> <tr><td> </td><td> </td></tr> <tr><td> </td><td> </td></tr> <tr><td> </td><td> </td></tr> <tr><td> </td><td> </td></tr> <tr><td> </td><td> </td></tr> <tr><td> </td><td> </td></tr> <tr><td> </td><td> </td></tr> </tbody> </table>	RECICLAVEL	NÃO RECICLAVEL																					<p><b>GRÁFICO</b></p> <p>OBSERVE O GRÁFICO.</p>  <p>AGORA, RESPONDA:</p> <p>QUAL O PRODUTO QUE MAIS FOI RECICLADO?</p> <p>QUAL FOI A PORCENTAGEM DA RECICLAGEM DO PAPEL E VIDRO JUNTOS?</p> <p>QUANTOS PORCENTO O VIDRO TEVE A MAIS DE RECICLAGEM EM RELAÇÃO AO PAPEL?</p>	<p><b>MEDIDA</b></p>  <p>OBSERVE OS NÚMEROS QUE APARECEM NA IMAGEM ACIMA. RESPONDA:</p> <p>1 MINUTO TEM QUANTOS SEGUNDOS?</p> <p>EM 20 ANOS TEMOS QUANTOS MESES?</p> <p>ESCREVA OS NÚMEROS DA IMAGEM POR EXTENSO.</p>	<p><b>RECICLAGEM</b></p> <p>DESENHE OU RECORTE FIGURAS PARA REPRESENTAR O TIPO DE LIXO QUE VAI SER RECICLADO EM CADA LATA.</p> 
RECICLAVEL	NÃO RECICLAVEL																									