



PREFEITURA DE  
**ITAPEVI**  
SECRETARIA DE EDUCAÇÃO





**APRENDER EM CASA**


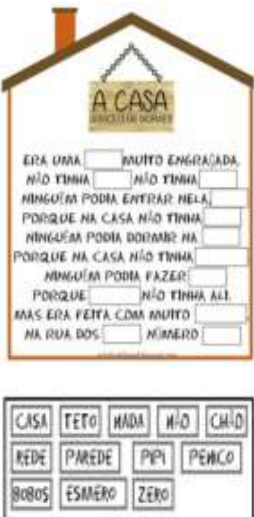


# SUGESTÕES DE ATIVIDADES

**EJA** EDUCAÇÃO DE  
JOVENS E ADULTOS

TERMO

**1**

Segunda-feira	Terça-feira	Quarta-feira	Quinta-feira	Sexta-feira															
Língua Portuguesa	Língua Portuguesa	Matemática	Matemática	Geografia															
<p><b>ORTOGRAFIA</b></p> <p>ESCREVA 3 PALAVRAS QUE COMBINAM COM ESTA IMAGEM.</p> 	<p><b>GRAMÁTICA</b></p> <p>COMPLETE A MÚSICA UTILIZANDO O BANCO DE PALAVRAS LOGO ABAIXO:</p> <div data-bbox="386 474 670 846" style="border: 1px solid black; padding: 5px;"> <p style="text-align: center;">A CASA BRUNO DE SOUZA</p> <p>ERA UMA <input type="text"/> MUITO ENGRAÇADA,        NÃO TINHA <input type="text"/> NÃO TINHA <input type="text"/>        NINGUÉM PODIA ENTRAR NELA,        PORQUE NA CASA NÃO TINHA <input type="text"/>        NINGUÉM PODIA DORMIR NA <input type="text"/>        PORQUE NA CASA NÃO TINHA <input type="text"/>        NINGUÉM PODIA FAZER <input type="text"/>        PORQUE <input type="text"/> NÃO TINHA ALI.        MAS ERA FEITA COM MUITO <input type="text"/>        NA RUA DOS <input type="text"/> NÚMERO <input type="text"/></p> </div> <div data-bbox="379 985 632 1115" style="border: 1px solid black; padding: 5px; margin-top: 10px;"> <table border="1" style="width: 100%; text-align: center;"> <tr> <td>CASA</td> <td>FETO</td> <td>HADA</td> <td>MÃO</td> <td>CHÃO</td> </tr> <tr> <td>REDE</td> <td>PAREDE</td> <td>PEPI</td> <td>PERICO</td> <td></td> </tr> <tr> <td>BOBOS</td> <td>ESMERO</td> <td>ZERO</td> <td></td> <td></td> </tr> </table> </div>	CASA	FETO	HADA	MÃO	CHÃO	REDE	PAREDE	PEPI	PERICO		BOBOS	ESMERO	ZERO			<p><b>FORMAS GEOMÉTRICAS</b></p> <p>OBSERVE A IMAGEM DE MOSAICO E ESCREVA QUAIS FORMAS GEOMÉTRICAS FORAM UTILIZADAS PARA CRIÁ-LA.</p> 	<p><b>NUMERAIS</b></p> <p>CONTE E ANOTE NO SEU CADERNO QUANTOS PAÍSES EXISTEM NA AMÉRICA DO SUL.</p> 	<p><b>NAÇÃO - BANDEIRAS</b></p> <p>IDENTIFIQUE A QUE PAÍSES ESSAS BANDEIRAS PERTENCEM.</p> 
CASA	FETO	HADA	MÃO	CHÃO															
REDE	PAREDE	PEPI	PERICO																
BOBOS	ESMERO	ZERO																	

Adaptação para estudantes com deficiência	Adaptação para estudantes com deficiência	Adaptação para estudantes com deficiência	Adaptação para estudantes com deficiência	Adaptação para estudantes com deficiência
<p><b>ORTOGRAFIA</b></p> <p>ESCREVA 3 PALAVRAS QUE COMBINAM COM ESTA IMAGEM.</p> 	<p><b>GRAMÁTICA</b></p> <p>PARA ESTUDANTES DEFICIENTES AUDITIVO ASSISTA AO VÍDEO: "A CASA – LIBRAS" <a href="https://www.youtube.com/watch?v=94Vj9GXTGM0">https://www.youtube.com/watch?v=94Vj9GXTGM0</a></p> <p>"A CASA – LETRA DA MÚSICA" <a href="https://www.youtube.com/watch?v=jb5z-TyJfw">https://www.youtube.com/watch?v=jb5z-TyJfw</a></p> <p>COMPLETE A MÚSICA UTILIZANDO O BANCO DE PALAVRAS LOGO ABAIXO:</p> 	<p><b>FORMAS GEOMÉTRICAS</b></p> <p>ASSISTA AO VIDEO: "FORMAS GEOMETRICAS EM LIBRA" <a href="https://www.youtube.com/watch?v=ULx-1J8Wwk">https://www.youtube.com/watch?v=ULx-1J8Wwk</a></p> <p>"NOME DAS FORMAS GEOMETRICAS" <a href="https://www.youtube.com/watch?v=3GLPplqrOhg">https://www.youtube.com/watch?v=3GLPplqrOhg</a></p> <p>OBSERVE A IMAGEM DE MOSAICO E ESCREVA QUAIS FORMAS GEOMÉTRICAS FORAM UTILIZADAS PARA CRIÁ-LA.</p> 	<p><b>NUMERAIS</b></p> <p>PARA ESTUDANTES DEFICIENTES AUDITIVOS ASSISTA AO VÍDEO: "PAÍSES DE AMERICA DO SUL EM LIBRAS" <a href="https://www.youtube.com/watch?v=wsazklwK_mU">https://www.youtube.com/watch?v=wsazklwK_mU</a></p> <p>CONTE E ANOTE NO SEU CADERNO QUANTOS PAÍSES EXISTEM NA AMÉRICA DO SUL.</p> 	<p><b>NAÇÃO – BANDEIRAS</b></p> <p>CASO O ALUNO SEJA DEFICIENTE AUDITIVO, ASSISTA AO VIDEO: "VOCABULÁRIO DOS PAÍSES EM LIBRAS" <a href="https://www.youtube.com/watch?v=E4vIozHMpaA">https://www.youtube.com/watch?v=E4vIozHMpaA</a></p> <p>IDENTIFIQUE A QUE PAÍSES ESSAS BANDEIRAS PERTENCEM.</p> 