



PREFEITURA DE
ITAPEVI
SECRETARIA DE EDUCAÇÃO















APRENDER EM CASA




SUGESTÕES DE ATIVIDADES

EJA EDUCAÇÃO DE
JOVENS E ADULTOS

TERMO

1

segunda-feira	Terça-feira	Quarta-feira	Quinta-feira	Sexta-feira																
Língua Portuguesa	Língua Portuguesa	Matemática	Matemática	Geografia																
<p>ORTOGRAFIA</p> <p>ESCREVA OS NOMES DAS IMAGENS.</p>  _____  _____  _____  _____  _____	<p>INTERPRETAÇÃO</p> <p>OBSEVE A IMAGEM:</p>  <p>QUANTAS ABÓBORAS VOCÊ VEU NA IMAGEM ACIMA?</p> <p>2 <input type="checkbox"/> 3 <input type="checkbox"/> 1 <input type="checkbox"/></p> <p>QUAL É A FANTASIA DA MÔNICA?</p> <p><input type="checkbox"/> FADA <input type="checkbox"/> BRUXA <input type="checkbox"/> SERPENTE</p> <p>QUAL A FANTASIA DO CASCAO?</p> <p><input type="checkbox"/> BRUXO <input type="checkbox"/> VAMPIRO <input type="checkbox"/> ALMOLÉ</p> <p>QUE SAZU DENTRO DA ABÓBORA?</p> <p><input type="checkbox"/> MORCEGO <input type="checkbox"/> GATO <input type="checkbox"/> FANTASMA</p>	<p>CÁLCULO</p> <p>TODAS AS CONTAS ACOMPANHAM TRÊS RESULTADOS. CALCULE E DESCUBRA QUAL DELES É O CORRETO.</p> <table border="1" data-bbox="678 548 917 862"> <tbody> <tr> <td>$\begin{array}{r} 10 \\ -10 \\ \hline \end{array}$</td> <td>$\begin{array}{r} 0 \\ 1 \\ 2 \\ \hline \end{array}$</td> <td>$\begin{array}{r} 15 \\ +16 \\ \hline \end{array}$</td> <td>$\begin{array}{r} 29 \\ 30 \\ 31 \\ \hline \end{array}$</td> </tr> <tr> <td>$\begin{array}{r} 9 \\ -5 \\ \hline \end{array}$</td> <td>$\begin{array}{r} 3 \\ 4 \\ 5 \\ \hline \end{array}$</td> <td>$\begin{array}{r} 15 \\ +6 \\ \hline \end{array}$</td> <td>$\begin{array}{r} 19 \\ 20 \\ 21 \\ \hline \end{array}$</td> </tr> <tr> <td>$\begin{array}{r} 18 \\ +15 \\ \hline \end{array}$</td> <td>$\begin{array}{r} 31 \\ 32 \\ 33 \\ \hline \end{array}$</td> <td>$\begin{array}{r} 9 \\ +5 \\ \hline \end{array}$</td> <td>$\begin{array}{r} 12 \\ 13 \\ 14 \\ \hline \end{array}$</td> </tr> <tr> <td>$\begin{array}{r} 8 \\ -5 \\ \hline \end{array}$</td> <td>$\begin{array}{r} 3 \\ 4 \\ 5 \\ \hline \end{array}$</td> <td>$\begin{array}{r} 19 \\ -8 \\ \hline \end{array}$</td> <td>$\begin{array}{r} 1 \\ 12 \\ 13 \\ \hline \end{array}$</td> </tr> </tbody> </table>	$\begin{array}{r} 10 \\ -10 \\ \hline \end{array}$	$\begin{array}{r} 0 \\ 1 \\ 2 \\ \hline \end{array}$	$\begin{array}{r} 15 \\ +16 \\ \hline \end{array}$	$\begin{array}{r} 29 \\ 30 \\ 31 \\ \hline \end{array}$	$\begin{array}{r} 9 \\ -5 \\ \hline \end{array}$	$\begin{array}{r} 3 \\ 4 \\ 5 \\ \hline \end{array}$	$\begin{array}{r} 15 \\ +6 \\ \hline \end{array}$	$\begin{array}{r} 19 \\ 20 \\ 21 \\ \hline \end{array}$	$\begin{array}{r} 18 \\ +15 \\ \hline \end{array}$	$\begin{array}{r} 31 \\ 32 \\ 33 \\ \hline \end{array}$	$\begin{array}{r} 9 \\ +5 \\ \hline \end{array}$	$\begin{array}{r} 12 \\ 13 \\ 14 \\ \hline \end{array}$	$\begin{array}{r} 8 \\ -5 \\ \hline \end{array}$	$\begin{array}{r} 3 \\ 4 \\ 5 \\ \hline \end{array}$	$\begin{array}{r} 19 \\ -8 \\ \hline \end{array}$	$\begin{array}{r} 1 \\ 12 \\ 13 \\ \hline \end{array}$	<p>QUANTIDADE</p> <p>COMPLETE A RECEITA COM AS QUANTIDADES ADEQUADAS:</p> <p>INGREDIENTES</p> <p>LATA DE LEITE EM PÓ _____</p> <p>_____ DE AÇÚCAR</p> <p>_____ DE LEITE</p> <p>_____ DE ACHOCCOLADO</p> <p>_____ SOPA DE MARGARINA SEM SAL</p> <p>MODO DE FAZER</p>	<p>MORADIA</p> <p>TEMOS AQUI ALGUNS EXEMPLOS DE MORADIAS.</p> <p>REGISTRE NO CADERNO QUAL O SEU TIPO DE MORADIA.</p>        
$\begin{array}{r} 10 \\ -10 \\ \hline \end{array}$	$\begin{array}{r} 0 \\ 1 \\ 2 \\ \hline \end{array}$	$\begin{array}{r} 15 \\ +16 \\ \hline \end{array}$	$\begin{array}{r} 29 \\ 30 \\ 31 \\ \hline \end{array}$																	
$\begin{array}{r} 9 \\ -5 \\ \hline \end{array}$	$\begin{array}{r} 3 \\ 4 \\ 5 \\ \hline \end{array}$	$\begin{array}{r} 15 \\ +6 \\ \hline \end{array}$	$\begin{array}{r} 19 \\ 20 \\ 21 \\ \hline \end{array}$																	
$\begin{array}{r} 18 \\ +15 \\ \hline \end{array}$	$\begin{array}{r} 31 \\ 32 \\ 33 \\ \hline \end{array}$	$\begin{array}{r} 9 \\ +5 \\ \hline \end{array}$	$\begin{array}{r} 12 \\ 13 \\ 14 \\ \hline \end{array}$																	
$\begin{array}{r} 8 \\ -5 \\ \hline \end{array}$	$\begin{array}{r} 3 \\ 4 \\ 5 \\ \hline \end{array}$	$\begin{array}{r} 19 \\ -8 \\ \hline \end{array}$	$\begin{array}{r} 1 \\ 12 \\ 13 \\ \hline \end{array}$																	

Adaptação para estudantes com deficiência	Adaptação para estudantes com deficiência	Adaptação para estudantes com deficiência	Adaptação para estudantes com deficiência	Adaptação para estudantes com deficiência																																																						
<p>ORTOGRAFIA</p> <p>VER A TABELA:</p> <table border="1" data-bbox="97 353 347 450"> <tr> <td>GATO</td> <td>ARANHA</td> </tr> <tr> <td>SAPO</td> <td>CORUJA</td> </tr> <tr> <td colspan="2">MORCEGO</td> </tr> </table> <p>VER A TABELA EESCREVA OS NOMES DAS IMAGENS.</p> 	GATO	ARANHA	SAPO	CORUJA	MORCEGO		<p>INTERPRETAÇÃO</p> <p>CASO O ALUNO SEJA DEFICIENTE AUDITIVO, ASSISTA AO VIDEO: "SINAIS DE HALLOWEEN EM LIBRA"</p> <p>https://www.youtube.com/watch?v=E-iiPFctKU</p>  <p>OBSERVE A IMAGEM:</p> <p>QUANTAS ABÓBORAS VOCÊ VÊ NA IMAGEM AO LADO?</p> <p>2 <input type="checkbox"/> 3 <input type="checkbox"/> 1 <input type="checkbox"/></p> <p>QUAL É A FANTASIA DA MÔNICA?</p> <p><input type="checkbox"/> FADA <input type="checkbox"/> BRUXA <input type="checkbox"/> SERPIENTE</p> <p>QUAL A FANTASIA DO CASCAO ?</p> <p><input type="checkbox"/> BRUXO <input type="checkbox"/> VAMPIRO <input type="checkbox"/> MUMMIA</p> <p>O QUE SAIU DENTRO DA ABÓBORA?</p> <p><input type="checkbox"/> MORCEGO <input type="checkbox"/> GATO <input type="checkbox"/> FANTASMA</p>	<p>CÁLCULO</p> <p>ASSISTA AO VÍDEO: "SUBTRAÇÃO"</p> <p>https://www.youtube.com/watch?v=TeiojCJtm04</p> <p>"ADIÇÃO"</p> <p>https://www.youtube.com/watch?v=DLuudRzGKH4&t=33s</p> <p>TODAS AS CONTAS ACOMPANHAM TRÊS RESULTADOS. CALCULE E DESCUBRA QUAL DELES É O CORRETO.</p> <table border="1" data-bbox="678 831 919 898"> <tr> <td>10</td> <td>0</td> <td>15</td> <td>29</td> </tr> <tr> <td>-10</td> <td>1</td> <td>+16</td> <td>30</td> </tr> <tr> <td></td> <td>2</td> <td></td> <td>31</td> </tr> </table> <table border="1" data-bbox="678 909 919 976"> <tr> <td>9</td> <td>3</td> <td>15</td> <td>19</td> </tr> <tr> <td>-5</td> <td>4</td> <td>+6</td> <td>20</td> </tr> <tr> <td></td> <td>5</td> <td></td> <td>21</td> </tr> </table> <table border="1" data-bbox="678 1003 919 1070"> <tr> <td>18</td> <td>31</td> <td>9</td> <td>12</td> </tr> <tr> <td>+15</td> <td>32</td> <td>+5</td> <td>13</td> </tr> <tr> <td></td> <td>33</td> <td></td> <td>14</td> </tr> </table> <table border="1" data-bbox="678 1088 919 1155"> <tr> <td>8</td> <td>3</td> <td>19</td> <td>1</td> </tr> <tr> <td>-5</td> <td>4</td> <td>-8</td> <td>12</td> </tr> <tr> <td></td> <td>5</td> <td></td> <td>13</td> </tr> </table>	10	0	15	29	-10	1	+16	30		2		31	9	3	15	19	-5	4	+6	20		5		21	18	31	9	12	+15	32	+5	13		33		14	8	3	19	1	-5	4	-8	12		5		13	<p>QUANTIDADE</p> <p>COMPLETE A RECEITA COM AS QUANTIDADES ADEQUADAS:</p> <p>INGREDIENTES</p> <p>_____ LATA DE LEITE EM PÓ</p> <p>_____ DE AÇÚCAR</p> <p>_____ DE LEITE</p> <p>_____ DE ACHOCOLATADO</p> <p>_____ SOPA DE MARGARINA SEM SAL</p> <p>MODO DE FAZER</p>	<p>MORADIA</p> <p>ASSISTA AO VÍDEO: "TIPOS DE MORADIA"</p> <p>https://www.youtube.com/watch?v=b5Agl3ZRpYc</p> <p>TEMOS AQUI ALGUNS EXEMPLOS DE MORADIAS.</p> <p>REGISTRE NO CADERNO QUAL O SEU TIPO DE MORADIA.</p> 
GATO	ARANHA																																																									
SAPO	CORUJA																																																									
MORCEGO																																																										
10	0	15	29																																																							
-10	1	+16	30																																																							
	2		31																																																							
9	3	15	19																																																							
-5	4	+6	20																																																							
	5		21																																																							
18	31	9	12																																																							
+15	32	+5	13																																																							
	33		14																																																							
8	3	19	1																																																							
-5	4	-8	12																																																							
	5		13																																																							