



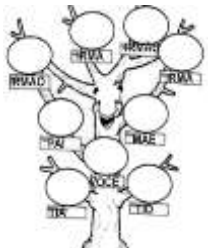







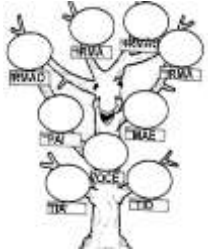
APRENDER EM CASA

SUGESTÕES DE ATIVIDADES

EJA EDUCAÇÃO DE
JOVENS E ADULTOS



Segunda-feira	Terça-feira	Quarta-feira	Quinta-feira	Sexta-feira
Língua Portuguesa	Língua Portuguesa	Matemática	Matemática	Ciências
<p>ORTOGRAFIA</p> <p>LEIA OS SLOGANS E TENTE DESCOBRIR A QUAL MARCA PERTENCEM:</p> <ul style="list-style-type: none"> • AMO MUITO TUDO ISSO! • TEM MIL E UMA UTILIDADES. • TERRÍVEL CONTRA OS INSETOS. CONTRA OS INSETOS! • ABUSE E USE <p>MATERIAL DE APOIO</p>    	<p>ORTOGRAFIA</p> <p>REORGANIZE A MÚSICA</p> <p>O CRAVO E A ROSA:</p> <p>BRIGOU A ROSA O COM CRAVO</p> <p>UMA DEBAIXO SACADA DE</p> <p>SAIU O FERIDO CRAVO</p> <p>DESPEDAÇADA A ROSA E</p> <p>CRAVO DOENTE O FICOU</p> <p>FOI A VISITAR ROSA</p> <p>UM TEVE DESMAIO CRAVO O</p> <p>E ROSA A PÔS CHORAR SE</p>	<p>REGISTRO</p> <p>OS NÚMEROS DA SUA VIDA NO SEU CADERNO:</p> <ol style="list-style-type: none"> 1- SUA IDADE 2-DATA DE NASCIMENTO 3-NÚMERO ENDEREÇO 4-QUANTIDADE DE FILHOS 5- QUANTOS LOCAIS DIFERENTES JÁ TRABALHOU 6 NÚMERO DE TELEFONE 7-QUANTIDADE DE IRMÃOS 8-NÚMERO DO ÔNIBUS QUE PEGA PARA CHEGAR À SUA RESIDÊNCIA 9- SEU PESO 10-QUANTAS PESSOAS MORAM NA SUA CASA 	<p>SITUAÇÃO-PROBLEMA</p> <p>RESOLVA A SITUAÇÃO-PROBLEMA:</p> <p>ANA TEM R\$ 32,00 E SUA IRMÃ R\$ 17,00. QUANTOS REAIS ANA TEM A MAIS QUE A SUA A IRMÃ</p>	<p>PESQUISA</p> <p>ÁRVORE GENEALÓGICA É ONDE REGISTRAMOS NOSSOS ANTEPASSADOS.</p> <p>CRIE A SUA COM BASE NO MODELO ABAIXO.</p> 

Adaptação para estudantes com deficiência	Adaptação para estudantes com deficiência	Adaptação para estudantes com deficiência	Adaptação para estudantes com deficiência	Adaptação para estudantes com deficiência						
<p>ORTOGRAFIA</p> <p>SLOGAN</p> <p>FRASE DE IMPACTO</p>  <p>LEIA OS SLOGANS E DESCUBRA QUAL MARCA COMBINA:</p> <ul style="list-style-type: none"> • AMO MUITO TUDO ISSO! • TEM MIL E UMA UTILIDADES. • TERRÍVEL CONTRA OS INSETOS. CONTRA OS INSETOS! • ABUSE E USE <p>MATERIAL DE APOIO</p>    	<p>ORTOGRAFIA</p> <p>ASSISTA AO VÍDEO: "o CRAVO BRIGOU COM A ROSA"</p> <p>https://www.youtube.com/watch?v=LI-AWsTt98</p> <p>REORGANIZE A MÚSICA</p> <p>O CRAVO E A ROSA:</p> <p>BRIGOU A ROSA O COM CRAVO</p> <p>UMA DEBAIXO SACADA DE</p> <p>SAIU O FERIDO CRAVO</p> <p>DESPEDAÇADA A ROSA E</p> <p>CRAVO DOENTE O FICOU</p> <p>FOI A VISITAR ROSA</p> <p>UM DEU DESMAIO CRAVO O</p> <p>E ROSA A PÔS CHORAR SE</p>	<p>REGISTRO</p> <p>OS NÚMEROS DA SUA VIDA NO SEU CADERNO:</p> <p>1- SUA IDADE</p> <p>2-DATA DE NASCIMENTO</p> <p>3-NÚMERO ENDEREÇO</p> <p>4-QUANTIDADE DE FILHOS</p> <p>5- QUANTOS LOCAIS DIFERENTES JÁ TRABALHOU</p> <p>6 NÚMERO DE TELEFONE</p> <p>7-QUANTIDADE DE IRMÃOS</p> <p>8-NÚMERO DO ÔNIBUS QUE PEGA PARA CHEGAR NA SUA RESIDÊNCIA</p> <p>9- SEU PESO</p> <p>10-QUANTAS PESSOAS MORAM NA SUA CASA</p>	<p>SITUAÇÃO--PROBLEMA</p> <p>RESOLVA A SITUAÇÃO PROBLEMA</p> <p>ANA TEM R\$ 32,00 E SUA IRMÃ R4 17,00. QUANTOS REAIS ANA TEM A MAIS QUE A SUA A IRMÃ</p> <table border="1" data-bbox="986 562 1238 656"> <tr> <td>ANA TER</td> <td>R\$</td> </tr> <tr> <td>IRMÃ TER</td> <td>R\$</td> </tr> </table> <table border="1" data-bbox="986 685 1238 831"> <tr> <td>QUANTO ANA TER MAIS QUE IRMÃ</td> <td>R\$</td> </tr> </table>	ANA TER	R\$	IRMÃ TER	R\$	QUANTO ANA TER MAIS QUE IRMÃ	R\$	<p>PESQUISA</p> <p>ASSISTA O VIDEO: "ÁRVORE GENEOLÓGICA EM LIBRAS"</p> <p>https://www.youtube.com/watch?v=Nk6u-6-ustg</p> <p>CRIE A SUA COM BASE NO MODELO ABAIXO.</p> 
ANA TER	R\$									
IRMÃ TER	R\$									
QUANTO ANA TER MAIS QUE IRMÃ	R\$									