



PREFEITURA DE
ITAPEVI
SECRETARIA DE EDUCAÇÃO




APRENDER EN CASA

SUGESTÕES DE ATIVIDADES

EJA EDUCAÇÃO DE
JOVENS E ADULTOS





Segunda-feira	Terça-feira	Quarta-feira	Quinta-feira	Sexta-feira
Língua Portuguesa	Língua Portuguesa	Matemática	Matemática	Ciências
<p>ORTOGRAFIA</p> <p>VOCÊS CONHECEM ALGUM DESSES PERSONAGENS? ESCREVA SEUS NOMES NO CADERNO.</p> 	<p>PRODUÇÃO TEXTUAL</p> <p>VOCÊ CONHECE ALGUM TRAVA LÍNGUAS? REGISTRE NO SEU CADERNO.</p> <p>SE NÃO SE LEMBRAR, ACESSO O LINK ABAIXO PARA AUXILIÁ-LO.</p> <p>https://www.youtube.com/watch?v=6hw3xd0jn_A</p>	<p>ORDEM CRESCENTE E DECRESCENTE</p> <p>SABEMOS COMO O SACI É BAGUNCEIRO. E ELE PASSOU POR AQUI E BAGUNÇOU TODOS ESTES NÚMEROS. ORGANIZE-OS NOVAMENTE EM ORDEM CRESCENTE, OU SEJA, DO MENOR PARA O MAIOR. EM SEGUIDA FAÇA O CONTRÁRIO. COLOQUE-OS EM ORDEM DECRESCENTE, OU SEJA, DO MAIOR PARA O MENOR.</p> 	<p>SITUAÇÃO PROBLEMA</p> <p>UMA MULA SEM CABEÇA TEM 4 PATAS. E SE CHEGASSEM MAIS 5 MULAS, QUANTAS PATAS TERIAM AO TODO?</p>	<p>PESQUISA</p> <p>PESQUISE UM POUCO MAIS SOBRE OS COSTUMES FOLCLÓRICOS E RESPONDA: COMO ELE É COMEMORADO NA SUA CIDADE?</p>
Adaptação para estudantes com deficiência	Adaptação para estudantes com deficiência	Adaptação para estudantes com deficiência	Adaptação para estudantes com deficiência	Adaptação para estudantes com deficiência
<p>ORTOGRAFIA</p> <p>Assista o vídeo : “Sinalário – Folclore” https://www.youtube.com/watch?v=Belfcoe0ny0</p> <p>ESCREVA SEUS NOMES NO CADERNO.</p> 	<p>PRODUÇÃO TEXTUAL</p> <p>Caso o aluno seja deficiente auditivo, assista o vídeo : https://www.youtube.com/watch?v=OGpESkjefLs</p> <p>Copiar a letra da música no caderno</p>	<p>ORDEM CRESCENTE E DECRESCENTE</p> <p>Caso o aluno seja deficiente auditivo, assista o vídeo: “História em Libras- A Lenda do Saci” https://www.youtube.com/watch?v=ouDNMKuQkiY https://www.youtube.com/watch?v=ouDNMKuQkiY</p> <p>Assista o vídeo: “Ordem crescente e ordem decrescente”</p>	<p>SITUAÇÃO PROBLEMA</p> <p>Uma mula sem cabeça tem 4 patas. E se chegassem mais 5 mulas, quantas patas teriam ao todo?</p>	<p>PESQUISA</p> <p>Assista o vídeo: “Folclore Brasileiro em animação” https://www.youtube.com/watch?v=eCLPV-uc5sw</p> <p>Caso o aluno seja deficiente auditivo, assista o vídeo: “Folclore Brasileiro em Libras” https://www.youtube.com/watch?v=hlfHXXmQAmY&t=208s</p>



<https://www.youtube.com/watch?v=QlghDifjY>

44

Coloque-os em ordem decrescente, ou seja, do maior para o menor.

