



PREFEITURA DE  
**ITAPEVI**  
SECRETARIA DE EDUCAÇÃO












**APRENDER EM CASA**

# SUGESTÕES DE ATIVIDADES

**EJA** EDUCAÇÃO DE  
JOVENS E ADULTOS

TERMO

**1**

Segunda-feira	Terça-feira	Quarta-Feira	Quinta-feira	Sexta-feira								
Língua Portuguesa	Língua Portuguesa	Matemática	Matemática	Ciências								
<p><b>ORTOGRAFIA</b></p> <p>VOCÊS CONHECEM ALGUM DESSES PERSONAGENS? ESCREVA SEUS NOMES NO CADERNO.</p> 	<p><b>ORTOGRAFIA</b></p> <p>A QUEM PERTENCEM ESTAS CARACTERÍSTICAS? ANOTE NO SEU CADERNO O NOME.</p> <ul style="list-style-type: none"> <li>É UMA COBRA QUE SOLTA FOGO.</li> <li>É UM HOMEM QUE SE TRANSFORMA EM LOBO NAS NOITES DE LUA CHEIA.</li> </ul>	<p><b>QUANTIDADE E NUMERAIS POR EXTENSO</b></p> <p>OBSERVEM O TEXTINHO ABAIXO. TRANSCREVA-O PARA O SEU CADERNO, REGISTRANDO NA FRENTE A QUANTIDADE DE CADA NÚMERO POR MEIO DE DESENHO OU COLAGEM.</p> <p>A GALINHA DO VIZINHO BOTA OVO AMARELINHO BOTA UM (1) BOTA DOIS (2) BOTA TRÊS (3) BOTA QUATRO (4) BOTA CINCO (5) BOTA SEIS (6) BOTA SETE (7) BOTA OITO (8) BOTA NOVE (9) BOTA DEZ (10)</p> 	<p><b>SITUAÇÃO PROBLEMA</b></p> <p>RESPONDA QUAL NÚMERO APARECE ENTRE:</p> <p>12 ____ 14</p> <p>20 ____ 22</p> <p>39 ____ 41</p> <p>48 ____ 50</p> <p>65 ____ 67</p> <p>99 ____ 101</p>	<p><b>PESQUISA</b></p> <p>ACESSE O LINK E DEPOIS REGISTRE NO SEU CADERNO O QUE COMPREENDEU POR MEIO DE ESCRITA OU DESENHO.</p> <p><a href="https://www.youtube.com/watch?v=YQ0U4E3ER5K&amp;list=RDCMUCNFDKRC5TN7CRAEAIPTQLG&amp;start_radio=1&amp;t=37">HTTPS://WWW.YOUTUBE.COM/WATCH?V=YQ0U4E3ER5K&amp;LIST=RDCMUCNFDKRC5TN7CRAEAIPTQLG&amp;TART_RADIO=1&amp;T=37</a></p>								
Adaptação para estudantes com deficiência	Adaptação para estudantes com deficiência	Adaptação para estudantes com deficiência	Adaptação para estudantes com deficiência	Adaptação para estudantes com deficiência								
<p><b>ORTOGRAFIA</b></p> <p><b>ASSISTA AO VÍDEO: "SINALÁRIO – FOLCLORE"</b> <a href="https://www.youtube.com/watch?v=BEIFCOE0NY0">HTTPS://WWW.YOUTUBE.COM/WATCH?V=BEIFCOE0NY0</a></p> <p>ESCREVA SEUS NOMES NO CADERNO.</p> <table border="1" data-bbox="92 1572 354 2020"> <tr> <td></td> <td></td> </tr> <tr> <td></td> <td></td> </tr> <tr> <td></td> <td></td> </tr> <tr> <td></td> <td></td> </tr> </table>									<p><b>ORTOGRAFIA</b></p> <p>A QUEM PERTENCEM ESTAS CARACTERÍSTICAS?</p> <ul style="list-style-type: none"> <li>É UMA COBRA QUE SOLTA FOGO: _____</li> <li>É UM HOMEM QUE SE TRANSFORMA EM LOBO NAS NOITES DE LUA CHEIA: _____</li> </ul>	<p><b>QUANTIDADE E NUMERAIS POR EXTENSO</b></p> <p>VEJA O VÍDEO EM LIBRAS: "A GALINHA DO VIZINHO EM LIBRAS"</p> <p><a href="https://www.youtube.com/watch?v=S2XZQ30THVM">HTTPS://WWW.YOUTUBE.COM/WATCH?V=S2XZQ30THVM</a></p> <p>COPIAR NO CADERNO O TEXTO</p> <p>A GALINHA DO VIZINHO BOTA OVO AMARELINHO BOTA UM (1) BOTA DOIS (2) BOTA TRÊS (3) BOTA QUATRO (4) BOTA CINCO (5) BOTA SEIS (6) BOTA SETE (7) BOTA OITO (8) BOTA NOVE (9) BOTA DEZ (10)</p> 	<p><b>SITUAÇÃO PROBLEMA</b></p> <p>RESPONDA QUAL NÚMERO APARECE ENTRE:</p> <p>12 ____ 14</p> <p>20 ____ 22</p> <p>39 ____ 41</p> <p>48 ____ 50</p> <p>65 ____ 67</p> <p>99 ____ 101</p>	<p><b>PESQUISA</b></p> <p>CASO O ALUNO SEJA DEFICIENTE AUDITIVO, ASSISTA AO VÍDEO EM LIBRAS: "FOLCLORE BRASILEIRO EM LIBRAS", NO LINK:</p> <p><a href="https://www.youtube.com/watch?v=HLFHXXMQAMY&amp;t=2035">HTTPS://WWW.YOUTUBE.COM/WATCH?V=HLFHXXMQAMY&amp;T=2035</a></p>
